



Ministero dell'Istruzione
dell'Università e della Ricerca



Istituto Nazionale per la valutazione
del sistema educativo di istruzione e di formazione

Rilevazione degli apprendimenti

Anno Scolastico 2004 – 2005

PROVA DI SCIENZE

Scuola Primaria

Classe Seconda

Codici

Scuola:

Classe:

Studente:

Spazio per l'etichetta autoadesiva




11301

1. L'aria è tiepida e sui rami spuntano le prime foglie. Gli uccelli preparano il nido per accogliere i piccoli.

In quale stagione ci troviamo?

- A. Estate.
 - B. Primavera.
 - C. Autunno.
-

2. Tra i cibi sotto raffigurati, uno solo è di origine animale; gli altri si ottengono lavorando dei vegetali.



Qual è il cibo di origine animale?

- A. Olio.
- B. Marmellata.
- C. Yogurt.




3. L'acqua che beviamo quando abbiamo sete ha alcune caratteristiche.

Quale tra le caratteristiche elencate è FALSA?

- A. L'acqua ha colore azzurro.
 - B. L'acqua non ha sapore.
 - C. L'acqua non ha colore.
-

4. Arriva l'inverno. Gli animali si preparano ad affrontare il lungo periodo freddo, durante il quale il cibo è scarso.

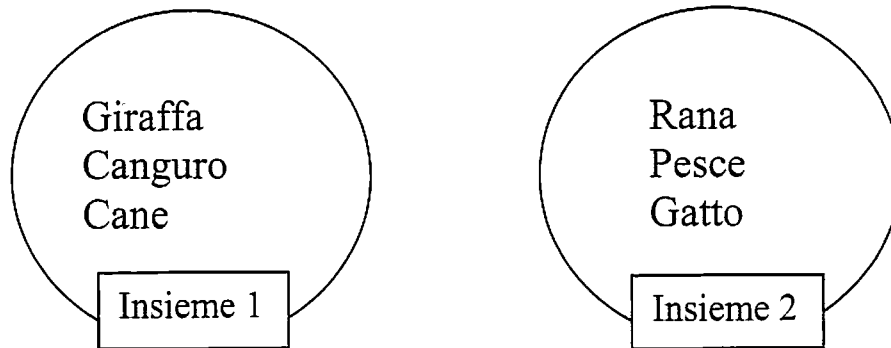


Quale, tra le seguenti frasi, è FALSA?

- A. Gli scoiattoli raccolgono noci nella tana.
- B. Le tartarughe vanno in letargo.
- C. Gli orsi e le volpi perdono il pelo.



5. Osserva questi due insiemi.



L'insieme 1 è l'insieme degli animali che allattano i propri cuccioli. L'insieme 2 è l'insieme degli animali che depongono le uova.

In uno dei due insiemi c'è un intruso.

Quale animale è nell'insieme sbagliato?

- A. Giraffa.
- B. Rana.
- C. Gatto.



6. Durante una gita alcuni bambini trovano molti ricci di castagne. A scuola, con l'aiuto dell'insegnante, scoprono come è fatto questo frutto. Che cosa osservano nell'ordine partendo dall'esterno della castagna?


- A. Il riccio, la buccia e la polpa.
 - B. La polpa, il riccio e la buccia.
 - C. Il riccio, la polpa e la buccia.
-

7. In una fattoria sono nati alcuni animali: un anatroccolo, un pulcino e un vitello. In quale delle righe seguenti ogni piccolo è unito alla mamma da una freccia nel modo corretto?

- A. Mucca → vitello; chioccia → anatroccolo;
anatra → pulcino.
- B. Mucca → vitello; chioccia → pulcino;
anatra → anatroccolo.
- C. Mucca → pulcino; chioccia → vitello;
anatra → anatroccolo.



8. Uno scolaro ha versato due bicchieri pieni d'acqua in ciascuno dei recipienti qui raffigurati.



Osserva la figura: quale affermazione è FALSA?

- A. L'acqua raggiunge lo stesso livello nei tre recipienti.
- B. L'acqua raggiunge livelli diversi nei tre recipienti.
- C. L'acqua ha preso la forma dei diversi recipienti.



9. Carlo ha trovato, nello zainetto per la gita, una barretta di cioccolato al latte, una mela, le patatine e il pane. Li ha ordinati dal più dolce al più salato. In che modo li ha disposti?

A.




B.



C.



10. Il cerbiatto Bambi incontra nel bosco alcuni animali nell'ordine indicato dal disegno.



Quale di queste affermazioni è VERA?

- A. Prima della biscia incontra un animale che vola.
- B. Dopo la biscia incontra un animale che vola.
- C. Prima dello scoiattolo incontra un animale che striscia.

